

Miejsce
na naklejkę
z kodem szkoły

dysleksja

MMA-P1A1P-062

EGZAMIN MATURALNY Z MATEMATYKI

Arkusz I

POZIOM PODSTAWOWY

Czas pracy 120 minut

ARKUSZ I

**MAJ
ROK 2006**

Instrukcja dla zdającego

1. Sprawdź, czy arkusz egzaminacyjny zawiera 14 stron (zadania 1 – 11). Ewentualny brak zgłoś przewodniczącemu zespołu nadzorującego egzamin.
2. Rozwiązania zadań i odpowiedzi zamieść w miejscu na to przeznaczonym.
3. W rozwiązaniach zadań przedstaw tok rozumowania prowadzący do ostatecznego wyniku.
4. Pisz czytelnie. Używaj długopisu/pióra tylko z czarnym tuszem/atramentem.
5. Nie używaj korektora, a błędne zapisy przekreśl.
6. Pamiętaj, że zapisy w brudnopisie nie podlegają ocenie.
7. Obok każdego zadania podana jest maksymalna liczba punktów, którą możesz uzyskać za jego poprawne rozwiązanie.
8. Możesz korzystać z zestawu wzorów matematycznych, cyrkla i linijki oraz kalkulatora.
9. Wypełnij tę część karty odpowiedzi, którą koduje zdający. Nie wpisuj żadnych znaków w części przeznaczonej dla egzaminatora.
10. Na karcie odpowiedzi wpisz swoją datę urodzenia i PESEL. Zamaluj pola odpowiadające cyfrom numeru PESEL. Błędne zaznaczenie otocz kółkiem i zaznacz właściwe.

Za rozwiązanie
wszystkich zadań
można otrzymać
łącznie
50 punktów

Życzymy powodzenia!

Wypełnia zdający przed
rozpoczęciem pracy

--	--	--	--	--	--	--	--	--	--

PESEL ZDAJĄCEGO

--	--	--

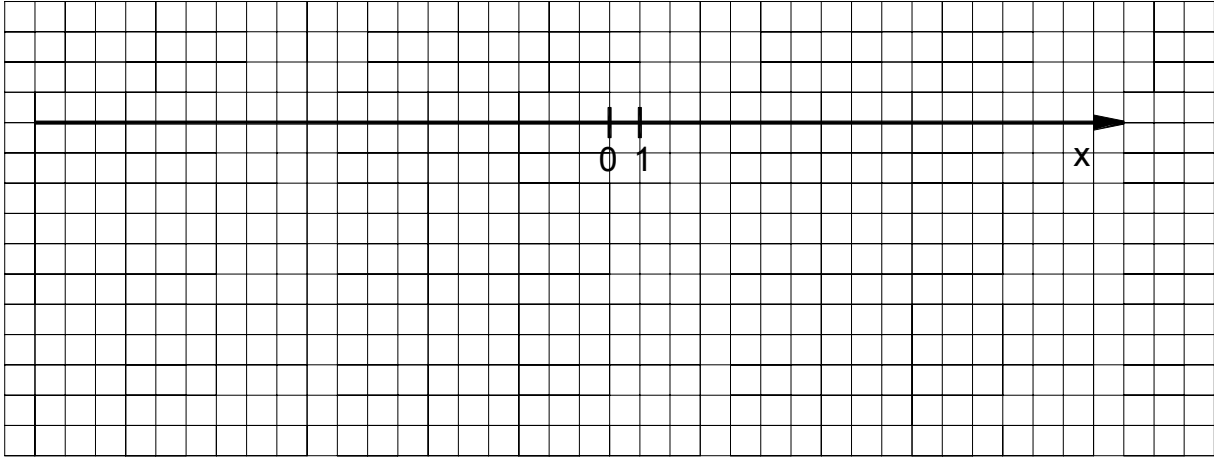
**KOD
ZDAJĄCEGO**

Zadanie 1. (3 pkt)

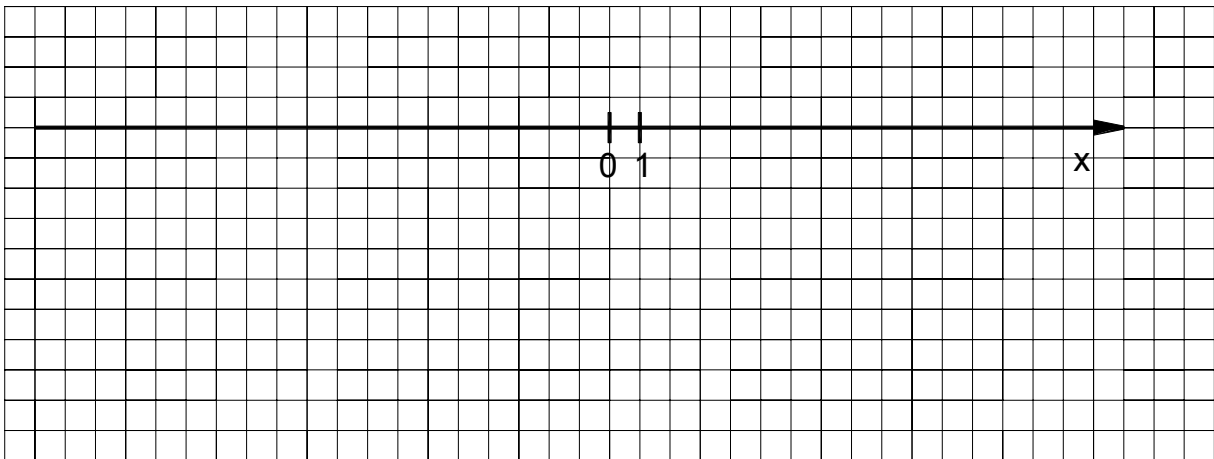
Dane są zbiory: $A = \{x \in \mathbb{R} : |x - 4| \geq 7\}$, $B = \{x \in \mathbb{R} : x^2 > 0\}$. Zaznacz na osi liczbowej:

- a) zbiór A ,
 b) zbiór B ,
 c) zbiór $C = B \setminus A$.

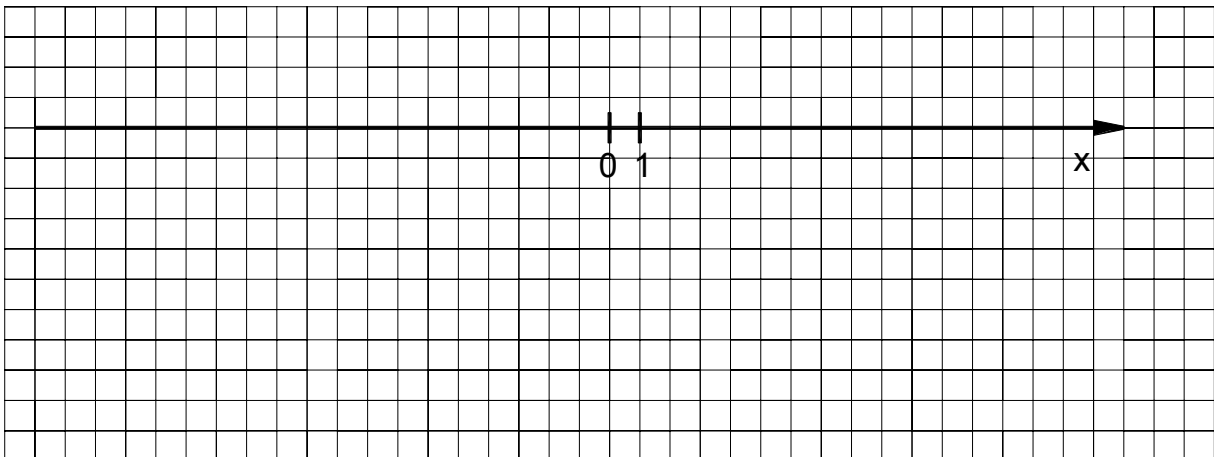
a)



b)




c)



Wypełnia egzaminator!	Nr czynności	1.1.	1.2.	1.3.
	Maks. liczba pkt	1	1	1
	Uzyskana liczba pkt			

Zadanie 2. (3 pkt)

W wycieczce szkolnej bierze udział 16 uczniów, wśród których tylko czworo zna okolicę. Wychowawca chce wybrać w sposób losowy 3 osoby, które mają pójść do sklepu. Oblicz prawdopodobieństwo tego, że wśród wybranych trzech osób będą dokładnie dwie znające okolicę.



Wypełnia egzaminator!	Nr czynności	2.1.	2.2.	2.3.
	Maks. liczba pkt	1	1	1
	Uzyskana liczba pkt			

Zadanie 3. (5 pkt)

Kostka masła produkowanego przez pewien zakład mleczarski ma nominalną masę 20 dag. W czasie kontroli zakładu zważono 150 losowo wybranych kostek masła. Wyniki badań przedstawiono w tabeli.

Masa kostki masła (w dag)	16	18	19	20	21	22
Liczba kostek masła	1	15	24	68	26	16


- a) Na podstawie danych przedstawionych w tabeli oblicz średnią arytmetyczną oraz odchylenie standardowe masy kostki masła.
- b) Kontrola wypada pozytywnie, jeśli średnia masa kostki masła jest równa masie nominalnej i odchylenie standardowe nie przekracza 1 dag. Czy kontrola zakładu wypadła pozytywnie? Odpowiedź uzasadnij.

Wypełnia egzaminator!	Nr czynności	3.1.	3.2.	3.3.
	Maks. liczba pkt	2	2	1
	Uzyskana liczba pkt			

Zadanie 4. (4 pkt)

Dany jest rosnący ciąg geometryczny, w którym $a_1 = 12$, $a_3 = 27$.

- a) Wyznacz iloraz tego ciągu.
- b) Zapisz wzór, na podstawie którego można obliczyć wyraz a_n , dla każdej liczby naturalnej $n \geq 1$.
- c) Oblicz wyraz a_6 .


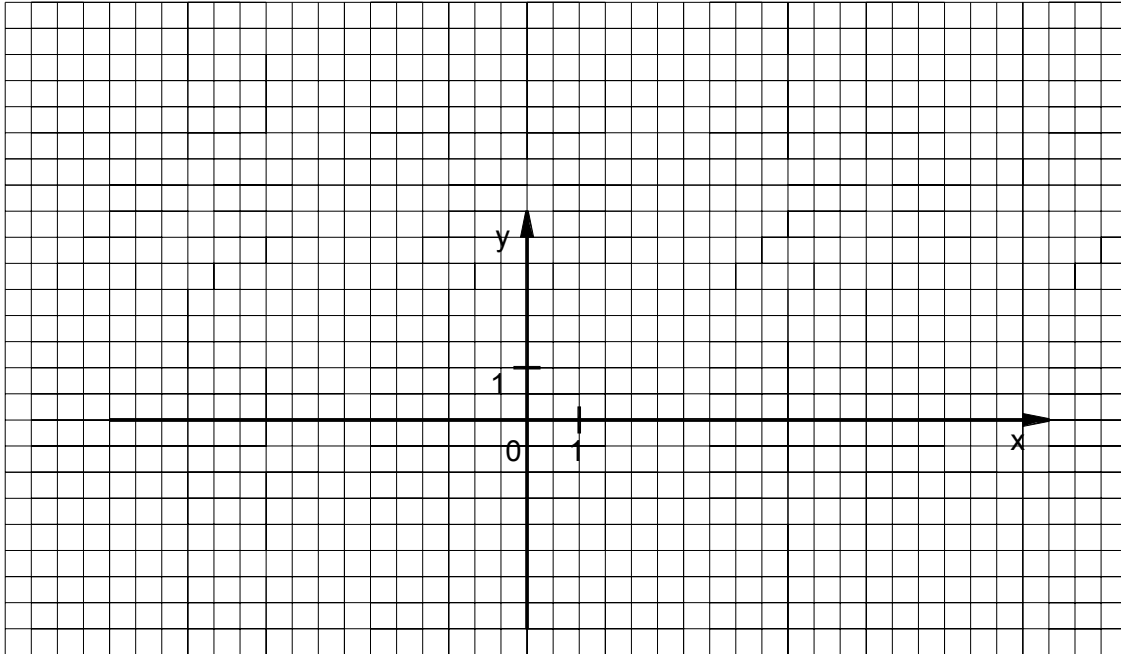


Wypełnia egzaminator!	Nr czynności	4.1.	4.2.	4.3.
	Maks. liczba pkt	2	1	1
	Uzyskana liczba pkt			

Zadanie 5. (3 pkt)

Wiedząc, że $0^\circ \leq \alpha \leq 360^\circ$, $\sin \alpha < 0$ oraz $4 \operatorname{tg} \alpha = 3 \sin^2 \alpha + 3 \cos^2 \alpha$

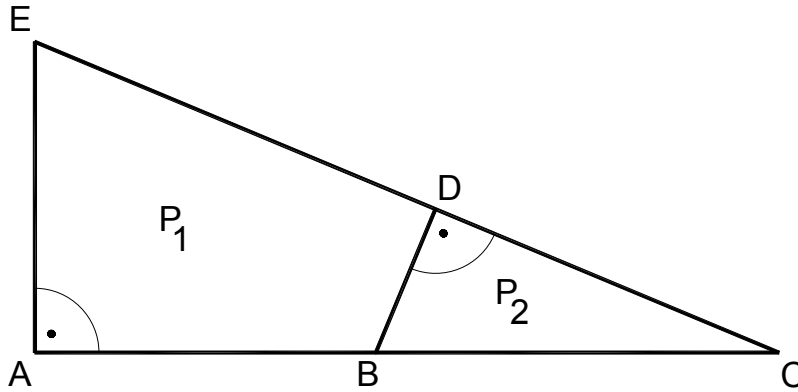
- oblicz $\operatorname{tg} \alpha$,
- zaznacz w układzie współrzędnych kąt α i podaj współrzędne dowolnego punktu, różnego od początku układu współrzędnych, który leży na końcowym ramieniu tego kąta.




Wypełnia egzaminator!	Nr czynności	5.1.	5.2.	5.3.
	Maks. liczba pkt	1	1	1
	Uzyskana liczba pkt			

Zadanie 6. (7 pkt)

Państwo Nowakowie przeznaczyli 26000 zł na zakup działki. Do jednej z ofert dołączono rysunek dwóch przylegających do siebie działek w skali 1:1000. Jeden metr kwadratowy gruntu w tej ofercie kosztuje 35 zł. Oblicz, czy przeznaczona przez państwa Nowaków kwota wystarczy na zakup działki P_2 .




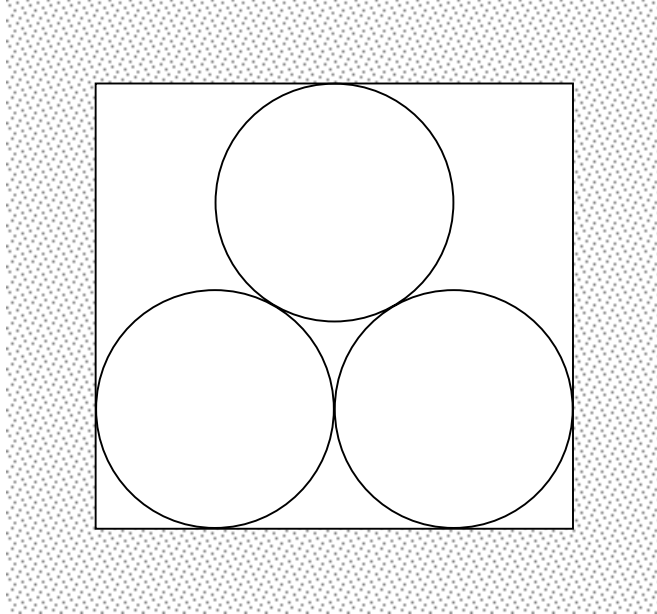
$$\begin{aligned} |AE| &= 5 \text{ cm}, \\ |EC| &= 13 \text{ cm}, \\ |BC| &= 6,5 \text{ cm}. \end{aligned}$$



Wypełnia egzaminator!	Nr czynności	6.1.	6.2.	6.3.	6.4.	6.5.	6.6.	6.7.
	Maks. liczba pkt	1	1	1	1	1	1	1
	Uzyskana liczba pkt							

Zadanie 7. (5 pkt)

Szkic przedstawia kanał ciepłowniczy, którego przekrój poprzeczny jest prostokątem. Wewnątrz kanału znajduje się rurociąg składający się z trzech rur, każda o średnicy zewnętrznej 1 m. Oblicz wysokość i szerokość kanału ciepłowniczego. Wysokość zaokrąglij do 0,01 m.

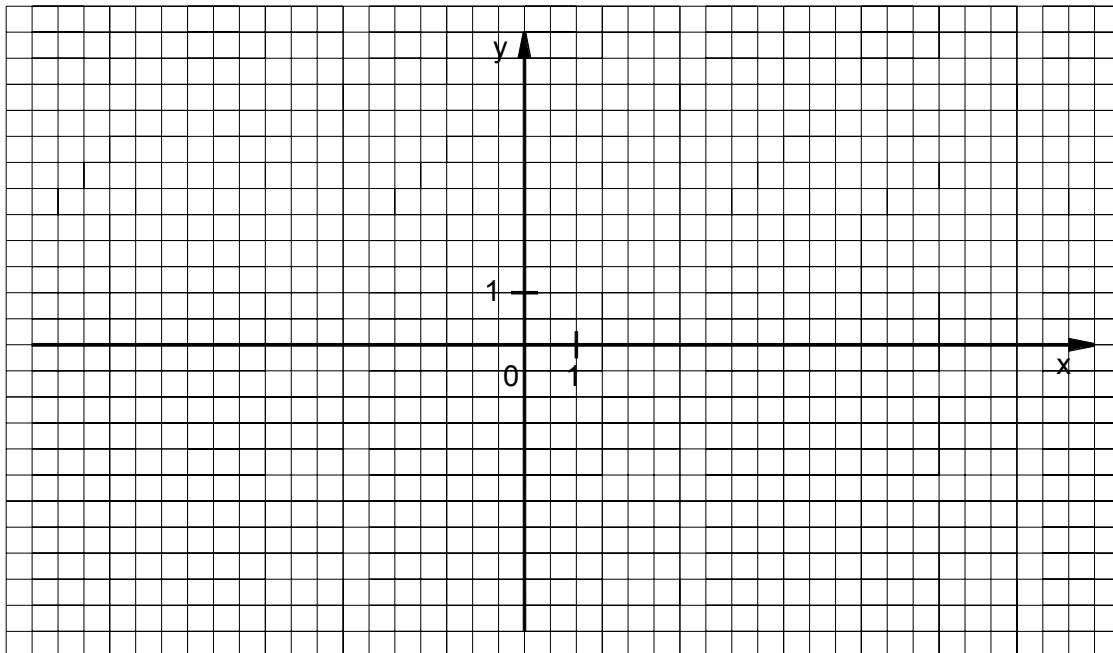


Wypełnia egzaminator!	Nr czynności	7.1.	7.2.	7.3.	7.4.
	Maks. liczba pkt	1	1	2	1
	Uzyskana liczba pkt				

Zadanie 8. (5 pkt)

Dana jest funkcja $f(x) = -x^2 + 6x - 5$.

- Naszkicuj wykres funkcji f i podaj jej zbiór wartości.
- Podaj rozwiązanie nierówności $f(x) \geq 0$.



A large empty grid area for writing the solution to the problem.

Wypełnia egzaminator!	Nr czynności	8.1.	8.2.	8.3.	8.4.	8.5.
	Maks. liczba pkt	1	1	1	1	1
	Uzyskana liczba pkt					

Zadanie 9. (6 pkt)

Dach wieży ma kształt powierzchni bocznej ostrosłupa prawidłowego czworokątnego, którego krawędź podstawy ma długość 4 m. Ściana boczna tego ostrosłupa jest nachylona do płaszczyzny podstawy pod kątem 60° .

- a) Sporządź pomocniczy rysunek i zaznacz na nim podane w zadaniu wielkości.
 b) Oblicz, ile sztuk dachówek należy kupić, aby pokryć ten dach, wiedząc, że do pokrycia 1 m^2 potrzebne są 24 dachówki. Przy zakupie należy doliczyć 8% dachówek na zapas.


Wypełnia egzaminator!	Nr czynności	9.1.	9.2.	9.3.	9.4.	9.5.
	Maks. liczba pkt	1	1	1	2	1
	Uzyskana liczba pkt					

Zadanie 10. (6 pkt)

Liczby 3 i -1 są pierwiastkami wielomianu $W(x) = 2x^3 + ax^2 + bx + 30$.

- a) Wyznacz wartości współczynników a i b .
- b) Oblicz trzeci pierwiastek tego wielomianu.

Wypełnia egzaminator!	Nr czynności	10.1.	10.2.	10.3.	10.4.	10.5.	10.6.
	Maks. liczba pkt	1	1	1	1	1	1
	Uzyskana liczba pkt						



Wypełnia egzaminator!	Nr czynności	11.1.	11.2.	11.3.
	Maks. liczba pkt	1	1	1
	Uzyskana liczba pkt			

BRUDNOPIS