

UZUPEŁNIA ZESPÓŁ NADZORUJĄCY

KOD UCZNIĄ

--	--	--

DATA URODZENIA UCZNIĄ

--	--	--	--	--	--	--	--

dzień miesiąc rok

miejsce
na naklejkę
z kodem

SPRAWDZIAN W SZÓSTEJ KLASIE SZKOŁY PODSTAWOWEJ

KWIECIEŃ 2009

Informacje dla ucznia

1. Sprawdź, czy zestaw egzaminacyjny zawiera 9 stron.
Jeśli brakuje stron, zgłoś to nauczycielowi.
2. Sprawdzian składa się z 24 zadań.
3. Czytaj uważnie wszystkie zadania.
4. Do niektórych zadań są podane odpowiedzi:
A. B. C.
lub
TAK NIE
Tylko jedna z nich jest poprawna. Wybierz ją i wpisz znak X w okienko , na przykład: .
5. Gdy się pomylisz, otocz błąd kółkiem w taki sposób: i zaznacz poprawną odpowiedź: .
6. Pozostałe zadania wykonaj bezpośrednio pod poleceniami. Pomyłki przekreślaj.
7. Jeśli nie potrafisz rozwiązać któregoś zadania, przejdź do następnego. Do opuszczonego wrócisz, jeśli będziesz mieć czas.
8. Na ostatniej stronie znajduje się brudnopis, z którego możesz skorzystać. To, co w nim napiszesz, nie będzie sprawdzane.


Czas pracy:
60 minut

(można przedłużyć – nie więcej niż o 30 minut)

**Liczba punktów
do uzyskania: 40**

Powodzenia!

S-8-092



Pies

Przeczytaj wiersz i rozwiąż zadania: 1., 2. i 3.

Mój pies

Chciałbym mieć psa,
wilka lub foksteriera.
Każdego dnia
chodziłbym z nim na spacer.

Uczyłbym go
służyć, leżeć przy nodze,
czuwać co noc
i bawić się ze mną co dzień.

A on swój łeb
wznosiłby bez przerwy ku mnie,
by każdy gest
i każde słowo zrozumieć.

Łasiłby się,
tuliłby pysk do mej twarzy,
mój piękny pies,
o którym ciągle marzę.

Józef Ratajczak

Zadanie 1.

Zaznacz poprawną odpowiedź.

Osoba mówiąca w wierszu wyraża swoje

- A. podziękowanie.
- B. zadowolenie.
- C. marzenie.

Zadanie 2.

Zaznacz poprawną odpowiedź.

Jak często osoba mówiąca w wierszu chodziłaby na spacer z psem?

- A. Codziennie.
- B. Co dwa dni.
- C. Raz w tygodniu.

Zadanie 3.

Zaznacz poprawną odpowiedź.

Wyrażenie *piękny pies* występuje w zwrotce

- A. drugiej.
- B. trzeciej.
- C. czwartej.

Zapoznaj się z kalendarzem i rozwiąż zadania: 4., 5. i 6.

Marzec 2009

poniedziałek	wtorek	środa	czwartek	piątek	sobota	niedziela
						1
2	3	4	5	6	7	8
9	10	11	12	13	14	15
16	17	18	19	20	21	22
23	24	25	26	27	28	29
30	31					

Zadanie 4.

Zaznacz TAK, jeśli zdanie jest prawdziwe, a NIE, jeśli zdanie jest fałszywe.

W marcu 2009 roku było więcej piątków niż niedziel. TAK NIE

Zadanie 5.

Dokończ zdanie. Wpisz nazwę dnia tygodnia.

Azor zaginął 14 marca 2009 roku, było to w _____ .

Zadanie 6.

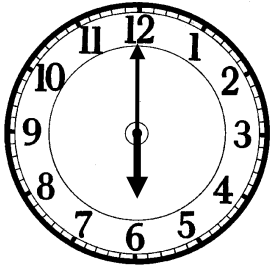
Azor zaginął 14 marca 2009 roku, a odnalazł się 23 marca tego samego roku.

Napisz, ile dni upłynęło od zaginięcia Azora do jego odnalezienia.


Zadanie 7.

Napisz, czy bezpiecznie jest głaskać obcego psa. Uzasadnij swoją odpowiedź.

Zadanie 10.
Odczytaj godziny z zegarów.



wyjście na spacer



powrót ze spaceru

Dokończ zdania.

Karol wyszedł na spacer z psem o godzinie _____ .

Wrócił ze spaceru o godzinie _____ .

Zadanie 11.
Dokończ zdanie, wpisując nazwę przyrządu.

Karol odczytał temperaturę powietrza na _____ .

Zadanie 12.
O godzinie 16.00 temperatura powietrza wynosiła 12°C. Do godziny 17.30 temperatura spadła o 3°C.

Zaznacz poprawną odpowiedź.
Temperatura powietrza o godzinie 17.30 wynosiła

A. 3°C

B. 9°C

C. 15°C

Zadanie 13.
Zaznacz TAK, jeśli zdanie jest prawdziwe, a NIE, jeśli zdanie jest fałszywe.

Spadek temperatury powietrza oznacza, że ociepliło się.

TAK

NIE

Brudnopsis

